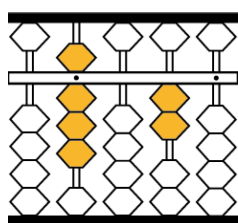


# そろばんを使って、算数にチャレンジ

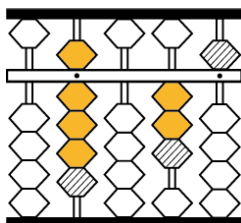
## ⑥「時こくと時間」の学習

年 組 なまえ ( )

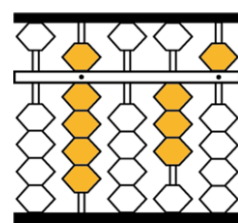
1. みかさんは、家族と遊園地へ行きました。家を出た時こくは8時20分です。遊園地まで1時間15分かかりました。着いたのは何時何分ですか。



+

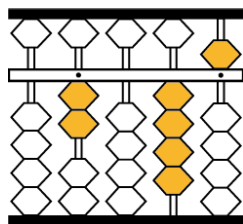


=

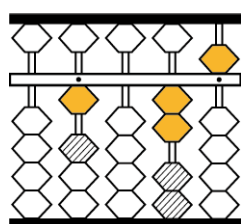


答え 時 分

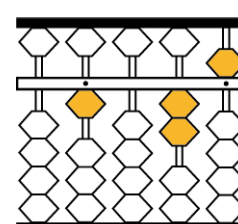
2. じゅんくんは、サッカーのしあいを見に行きました。午後1時20分に始まり、午後2時45分に終わりました。しあい時間はどれだけでしたか。



-



=



答え 時間 分

3. 今の時こくは午後6時30分です。次の時こくは何時何分ですか。

- ① 2時間18分後 ( )      ② 5時間10分前 ( )  
 ③ 1時間50分後 ( )      ④ 3時間45分前 ( )